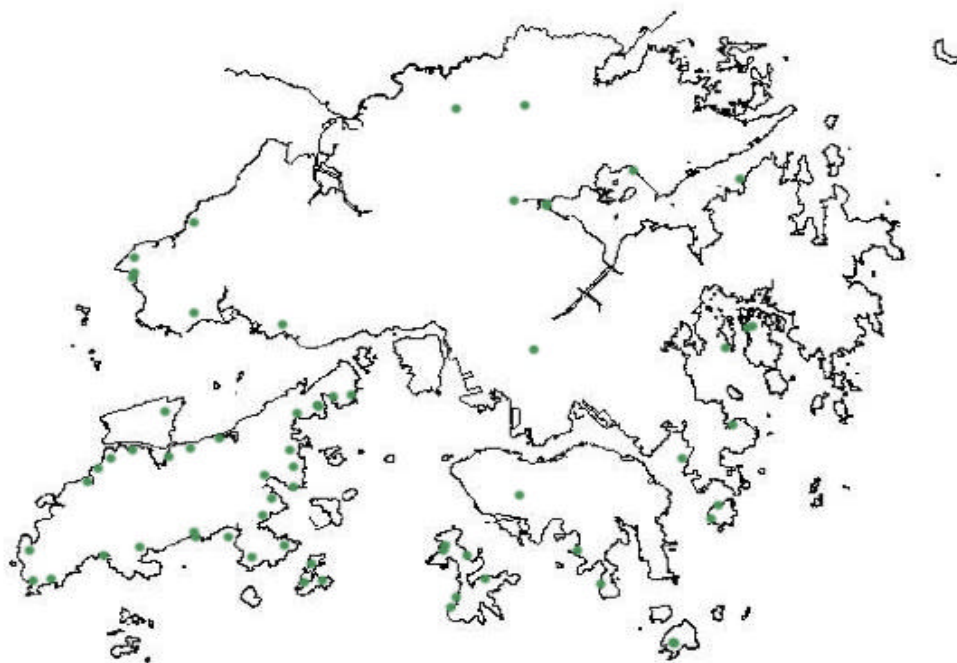


## 文化承傳：從兒童探知館中認識香港



1. 米埔沼澤在新界西北部，請用藍色筆在圖上繪畫出米埔的範圍。
2. 為了使多種海洋生物得以保存，本港設立了多個海岸公園及海岸保護區，你知道它們在哪裏嗎？請在上圖標上它們的位置。

海下灣海岸公園

印洲塘海岸公園

鶴咀海岸保護區

沙洲及龍鼓洲海岸公園

3. 在香港的后海灣、新界東北、西貢等地區都可以找到紅樹林，你可以用紅色筆把上述的地區繪畫出來嗎？

4. a. 地圖中綠點的地方曾發現早期居民生活的遺物，你認為這些地方在地貌上有甚麼共同之處？

---



---



---



---



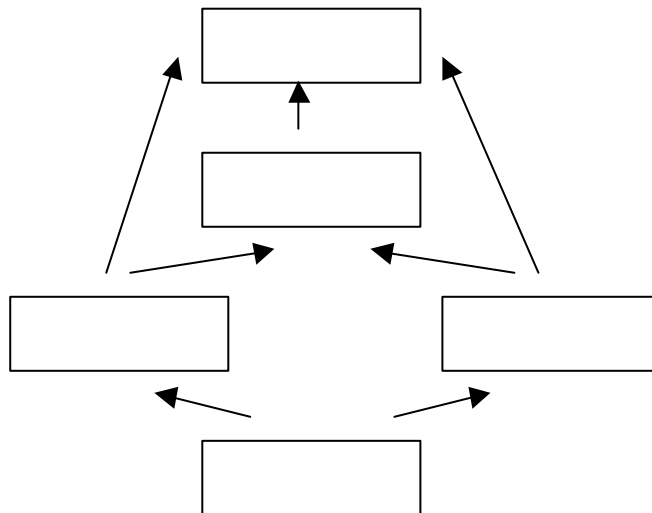
---

- b. 以下是進行考古發掘時的工序，請按其先後把這些工序填到括號中。

攝影 文物出土 選址 開方 回田

(        ) (        ) (        ) (        ) (        )

5. a. 以下生物：雀鳥、魚類、蝦、蟹、紅樹林構成了米埔沼澤的其中一個「食物網」，請把這些生物分別填到適合的空格中去。




- b. 承上題，假如沼澤水質受到嚴重污染，試想想會出現甚麼後果？

---



---

6. a. 請繪出以下物件的草圖。



- b. 承上題，試想想「激死蟻」是什麼？

---

7. a 按照基圍蝦身體的大小，可以把牠們分成成蝦和幼蝦，試指出漁民怎樣區別成蝦和幼蝦？

---

---

- b. 漁民會把捕獲的成蝦放到貨車內，以便送往市場售賣，幼蝦即被放回魚塘中。試想想漁民為甚麼會這樣做？

---